

3
הזז גפרור אחד לקבלת תרגיל נוסף
שסכמו 10

$$1 + 9 = 10$$

2
הזז גפרור אחד לקבלת תשובה נכונה

$$4 + 5 - 6 = 10$$

1
הזז גפרור אחד לקבלת שוויון

$$9 - 9 = 5$$

6
הזז גפרור אחד לקבלת שוויון

$$1 + 9 = 18$$

5
הזז גפרור אחד לקבלת שוויון

$$4 + 9 = 05$$

4
הזז גפרור אחד לקבלת שוויון

$$8 + 0 = 05$$

9
הזז גפרור אחד לקבלת שוויון

$$5 + 9 = 06$$

8
הזז שני גפרורים לקבלת התשובה הנכונה

$$3 + 3 = 10$$

7
הזז גפרור אחד לקבלת שוויון

$$9 + 4 = 01$$

12
הזז גפרור אחד לקבלת שוויון

$$5 + 0 = 08$$

11
הזז גפרור אחד לקבלת שוויון

$$5 + 9 = 00$$

10
הזז גפרור אחד לקבלת שוויון

$$8 + 9 = 16$$

15
הזז גפרור אחד לקבלת שוויון

$$6 + 5 = 14$$

14
יש להזיז 4 גפרורים כדי לקבל 3 ריבועים.

13
הזז גפרור אחד לקבלת שוויון

$$3 + 8 = 3$$

18
יש להזיז 3 גפרורים כדי לקבל 5 משולשים

17
הזז גפרור אחד לקבלת שוויון

$$9 + 3 = 05$$

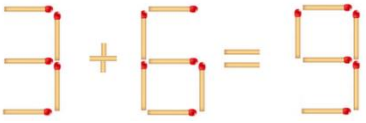
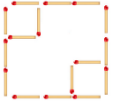
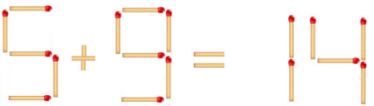
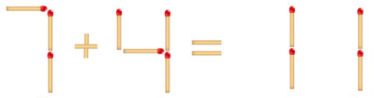
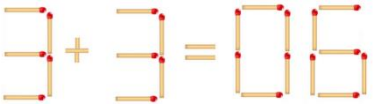
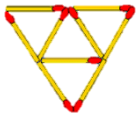



16
הזז גפרור אחד לקבלת שוויון

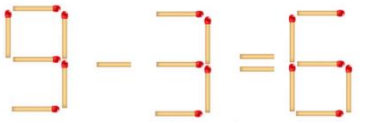
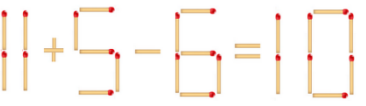
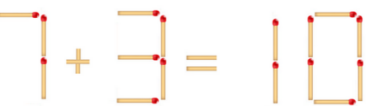
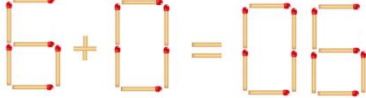

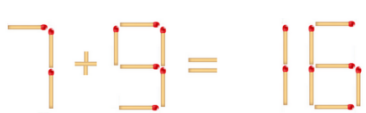
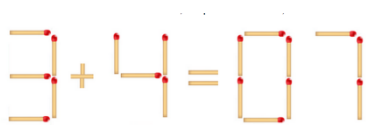
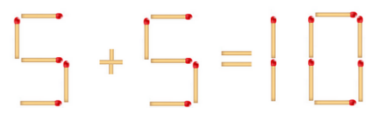
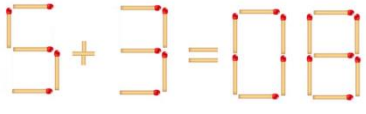
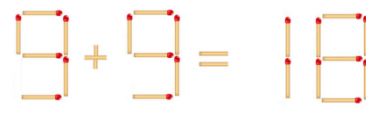
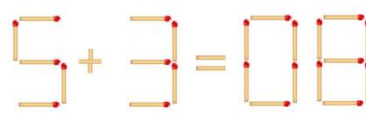
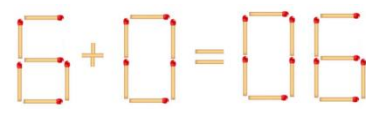
$$1 + 4 = 17$$

21
צורה זו מורכבת מ-16 גפרורים וכוללת 8 משולשים.
יש להסיר 4 גפרורים כך שישארו רק 4 משולשים.

20
צורה זו בנויה מ-18 גפרורים.
יש להסיר ממנה 6 גפרורים, כך שישארו 3 ריבועים זהים.

19
מן דוד זה בנוי מ-18 גפרורים, ומכיל 6 משולשים גדולים ו-27 משולשים קטנים.
יש להזיז 2 גפרורים כדי שיהיו 6 משולשים בלבד.

תשובה	חידה מספר
	13
	14
	15
	16
	17
	18
	19
	20
	21

תשובה	חידה מספר
	1
	2
	3
	4
	5
	6
	7
	8
	9
	10
	11
	12